

## Дистанционная олимпиада по информатике для 3 класса

**1** Найди закономерность расположения букв.  
Какая буква должна стоять следующей?



**2** Посмотри на таблицу. Укажи координаты нахождения корабля.

	А	Б	В	Г	Д	Е	Ж
1							
2							
3							
4							
5							
6							
7							

- а) А5  
б) 51  
в) Г5  
г) ГГ

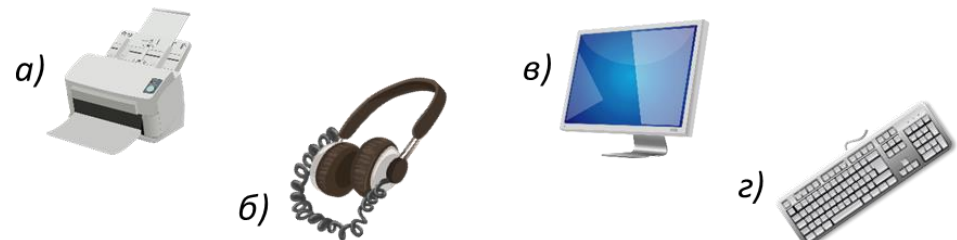
**3** Разгадай ребус. Что означает это слово?



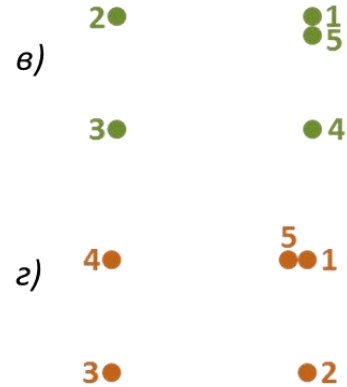
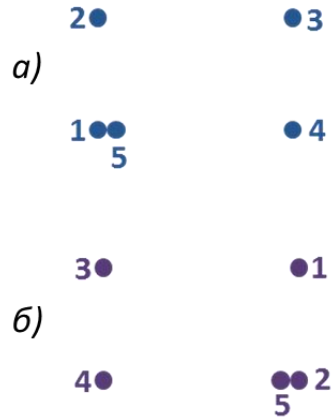
- а) Пошаговое описание всех действий, которые нужно выполнить, чтобы получить требуемый результат.  
б) Устройства для сбора, создания, передачи, приёма, хранения и обработки данных.  
в) Высказывание, противоположное по смыслу.  
г) Вопрос, на который можно ответить «да» или «нет».

**4** Найди в таблице среди знаков буквы. Составь из них слово. Отметь подходящий рисунок.

&	↔	≡	Р	&	Σ	≈	☀	Ω	∞	↑	Ω
П	◇	☼	↑	х	Ω	◇	∞	Т	☼	х	Р
↗	Ω	↑	☀	И	Н	Ω	Σ	↑	Е	Ω	Σ
◇	Ж	≈	↔	△	↖	☼	х	↔	△	≈	√




**5** Соедини все точки по порядку. Какая фигура отличается от других?



**6** Прочти описание объекта. Укажи его.

- ❖ Живут семейными табунами под предводительством взрослого жеребца.
- ❖ Питаются различными травами, листвой кустарников, корой деревьев, почками, молодыми побегами и корнями растений.
- ❖ Каждый зверь имеет уникальный рисунок из чёрных и белых полос, подобно отпечаткам пальцев у человека.



**7** Посмотри на рисунок. Отметь неверное утверждение.

- а) На рисунке не лето, не осень, не весна.
- б) На рисунке более двух ёлок.
- в) На рисунке несколько снеговиков.
- г) На рисунке нет Деда Мороза и Снегурочки.

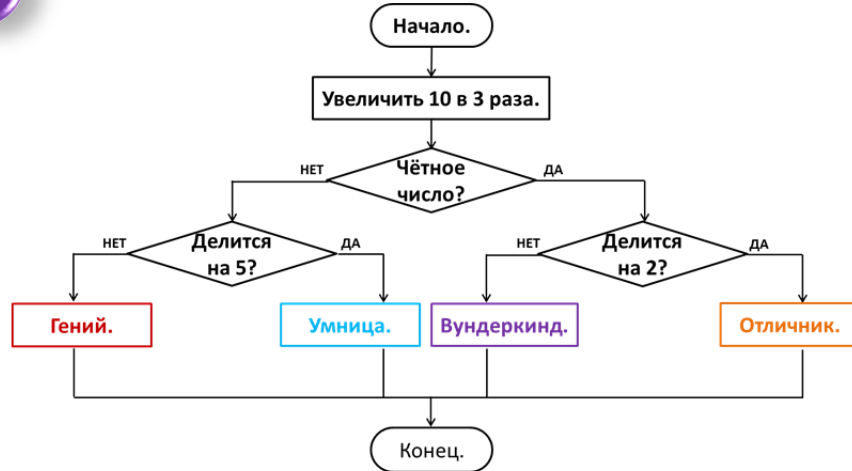


**8** Выведи червячка по лабиринту. Собери по пути все буквы. Собери слово из всех этих букв. Что оно означает?

- а) Группа предметов, объектов или существ.
- б) Сведения об окружающем нас мире.
- в) Вопрос, на который можно ответить «да» или «нет».
- г) Высказывание, противоположное по смыслу.



**9** Выполни алгоритм. Какое слово получилось?




а) гений

б) умница

в) вундеркинд

г) отличник

**10** Вика живёт выше Лены, но ниже Кати, а Света живёт ниже всех остальных. Кто живёт на 3 этаже?



а) Вика

б) Лена

в) Катя

г) Света

1	а	б	в	г
2	а	б	в	г
3	а	б	в	г
4	а	б	в	г
5	а	б	в	г
6	а	б	в	г
7	а	б	в	г
8	а	б	в	г
9	а	б	в	г
10	а	б	в	г